

ജില്ലയുടെ പേര്. **തൃശ്ശൂർ**
ബി.ആർ.സി യുടെ പേര്. **മുല്ലശ്ശേരി**

സ്റ്റാൻഡേർഡ് : 6
വിഷയം : സാമൂഹ്യശാസ്ത്രം
യൂണിറ്റ് : 6
പാഠം : വൈവിധ്യങ്ങളുടെ ലോകം
വർക്ക്ഷീറ്റ് നമ്പർ : 01

ആരംഭം 01


വൈറ്റ് ബോർഡ് ഷീറ്റ്

യോജിച്ചവ കണ്ടെത്തുക

പിമികളുടെ വീട്, ഭക്ഷണം, വസ്ത്രം എന്നിവയ്ക്ക് അനുയോജ്യമായവ കണ്ടെത്തി യോജിപ്പിക്കുക.



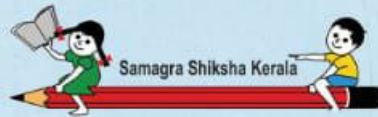
മരച്ചീനി അഥവാ കസാവ ,
കായ്കനികൾ



ഇലകളും മൃഗങ്ങളുടെ തോലും



അർദ്ധവൃത്താകൃതിയിലുള്ള വീടുകൾ,
മരച്ചില്ലകളും ഇലകളും കൊണ്ട്
നിർമിച്ചവ



ജില്ലയുടെപേര്. **തൃശ്ശൂർ**
ബി.ആർ.സി യുടെ പേര്. **മുല്ലശ്ശേരി**

സ്റ്റാൻഡേർഡ് : 6
വിഷയം : സാമൂഹ്യ ശാസ്ത്രം
യൂണിറ്റ് : 6
പാഠം : വൈവിധ്യങ്ങളുടെ ലോകം
വർക്ക്ഷീറ്റ് നമ്പർ : 02

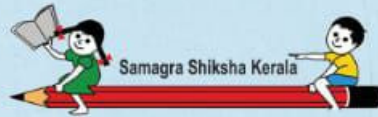
വൈറ്റ് ബോർഡ് ഷീറ്റ്

തുടർച്ച 02

പദസൂര്യൻ പൂർത്തിയാക്കുക

കോംഗോ നദീതടത്തിന്റെ സവിശേഷതകൾ എഴുതി പദസൂര്യൻ പൂർത്തിയാക്കുക





ജില്ലയുടെ പേര്: **തൃശ്ശൂർ**
 ബി.ആർ.സി യുടെ പേര്: **മുള്ളശ്ശേരി**

സ്റ്റാൻഡേർഡ് : 6
 വിഷയം : സാമൂഹ്യ ശാസ്ത്രം
 യൂണിറ്റ് : 6
 പാഠം : വൈവിധ്യങ്ങളുടെ ലോകം
 വർക്ക്ഷീറ്റ് നമ്പർ : **03**


വൈറ്റ് ബോർഡ് ഷീറ്റ്

തുടർച്ച **03**

ടിക്ക് ചെയ്യുക

കോംഗോ നദീതടത്തിന്റെ സവിശേഷതകൾക്കുള്ള കാരണങ്ങൾക്ക് നേരെ ടിക്ക് ചെയ്യുക

- a) ഭൂമധ്യരേഖയോട് അടുത്ത് സ്ഥിതി ചെയ്യുന്നു.
- b) വരണ്ട പ്രദേശമായതു കൊണ്ട്.
- c) ധാരാളം സൂര്യപ്രകാശം ലഭിക്കുന്നു.
- d) ഭൂമധ്യരേഖയിൽ നിന്ന് ദൂരെ സ്ഥിതി ചെയ്യുന്നു.
- e) സൂര്യപ്രകാശം ലഭിക്കുന്നില്ല.



ജില്ലയുടെ പേര്. **തൃശ്ശൂർ**
ബി.ആർ.സി യുടെ പേര്. **മുല്ലശ്ശേരി**

സ്റ്റാൻഡേർഡ് : 6
വിഷയം : സാമൂഹ്യ ശാസ്ത്രം
യൂണിറ്റ് : 6
പാഠം : വൈവിധ്യങ്ങളുടെ ലോകം
വർക്ക്ഷീറ്റ് നമ്പർ : 04


വൈറ്റ് ബോർഡ് ഷീറ്റ്

തുടർച്ച **04**

ഈ ചിത്രങ്ങൾ ശ്രദ്ധിക്കൂ



ഇതിൽ നിന്നും മധ്യരേഖാ കാലാവസ്ഥാ മേഖലയിലെ ജന്തുജാലങ്ങളെ ശരിയായി തിരിച്ചറിഞ്ഞ് ടിക്ക് ചെയ്യുക



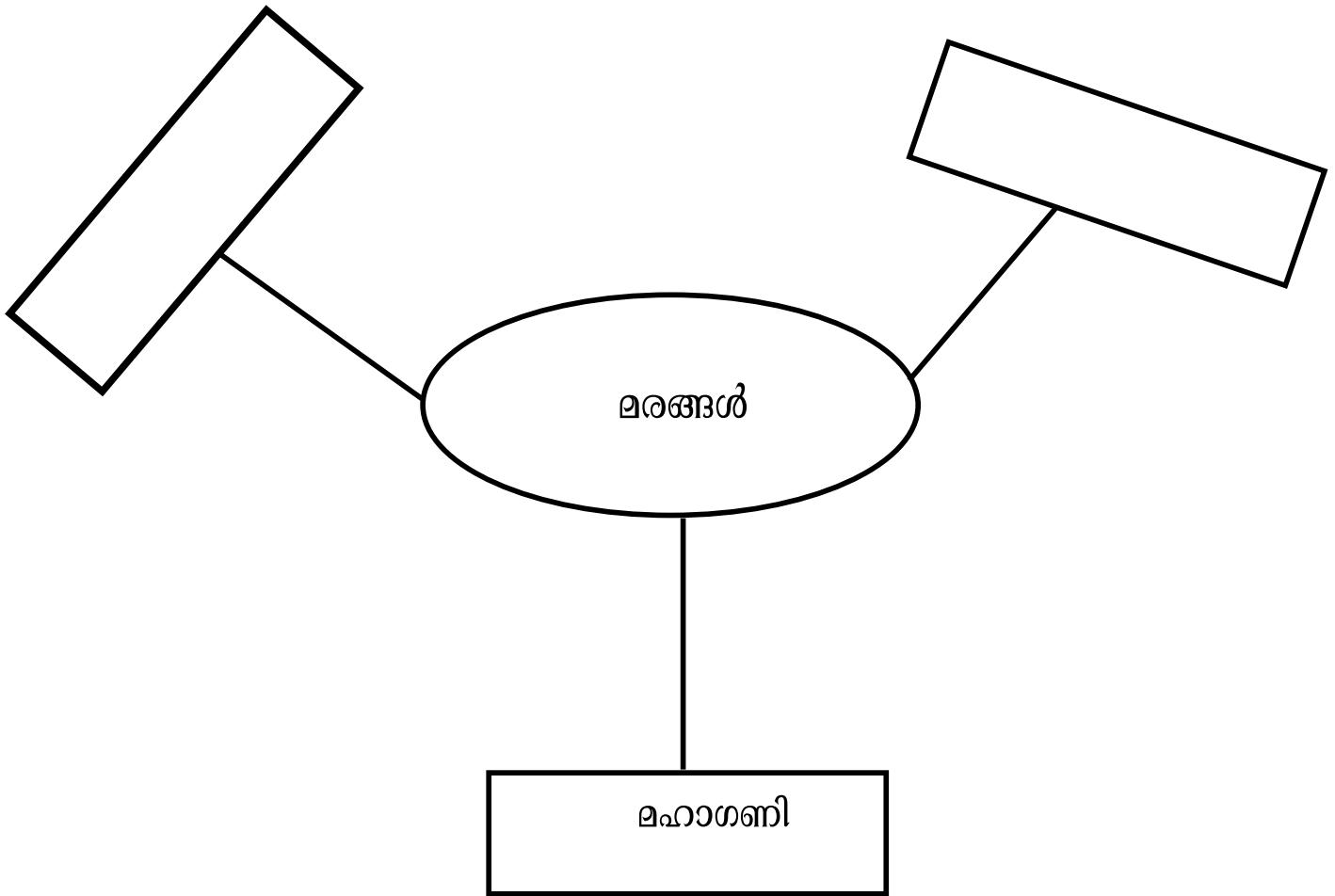
ജില്ലയുടെ പേര്. **തൃശ്ശൂർ**
ബി.ആർ.സി യുടെ പേര്. **മുല്ലശ്ശേരി**

സ്റ്റാൻഡേർഡ് : 6
വിഷയം : സാമൂഹ്യ ശാസ്ത്രം
യൂണിറ്റ് : 6
പാഠം : വൈവിധ്യങ്ങളുടെ ലോകം
വർക്ക്ഷീറ്റ് നമ്പർ : **05**


വൈറ്റ് ബോർഡ് ഷീറ്റ്

തുടർച്ച **05**

പദസൂര്യൻ പൂർത്തിയാക്കുക



മധ്യരേഖാ കാലാവസ്ഥാ മേഖലയിലെ കാഠിന്യമേറിയ മരങ്ങൾ ഏതാണ് ?



ജില്ലയുടെ പേര്. **തൃശ്ശൂർ**
 ബി.ആർ.സി യുടെ പേര്. **മുല്ലശ്ശേരി**


സ്റ്റാൻഡേർഡ് : 6
 വിഷയം : സാമൂഹ്യ ശാസ്ത്രം
 യൂണിറ്റ് : 6
 പാഠം : വൈവിധ്യങ്ങളുടെ ലോകം
 വർക്ക്ഷീറ്റ് നമ്പർ : **06**

തുടർച്ച **06**

വൈറ്റ് ബോർഡ് ഷീറ്റ്

ചിത്രങ്ങളിൽ നിന്നും മരുഭൂമിയിൽ കാണുന്ന സസ്യങ്ങളുടെ പേരും അവയുടെ പ്രത്യേകതകളും നോട്ടുപുസ്തകത്തിൽ എഴുതുക.





ജില്ലയുടെ പേര്. **തൃശ്ശൂർ**
 ബി.ആർ.സി യുടെ പേര്. **മുല്ലശ്ശേരി**

സ്റ്റാൻഡേർഡ് : 6
 വിഷയം : സാമൂഹ്യ ശാസ്ത്രം
 യൂണിറ്റ് : 6
 പാഠം : വൈവിധ്യങ്ങളുടെ ലോകം
 വർക്ക്ഷീറ്റ് നമ്പർ : 07


തുടർച്ച 07

വൈറ്റ് ബോർഡ് ഷീറ്റ്

കണ്ടെത്തുക

ലോക മാപ്പിൽ നിന്ന് തുറന്ന കാലാവസ്ഥാ മേഖല ഏതൊക്കെ വൻകരകളിൽ പെടുന്നുവെന്ന് കണ്ടെത്തുക





ജില്ലയുടെ പേര്. **തൃശ്ശൂർ**
 ബി.ആർ.സി യുടെ പേര്. **മുല്ലശ്ശേരി**

സ്റ്റാൻഡേർഡ് : 6
 വിഷയം : സാമൂഹ്യ ശാസ്ത്രം
 യൂണിറ്റ് : 6
 പാഠം : വൈവിധ്യങ്ങളുടെ ലോകം
 വർക്ക്ഷീറ്റ് നമ്പർ : 08


വൈറ്റ് ബോർഡ് ഷീറ്റ്

തുടർച്ച **08**

ടിക്ക് മാർക്ക് നൽകുക

ഇന്ത്യട്ടുകളെക്കുറിച്ച് ശരിയായ പ്രസ്താവനയ്ക്ക് ടിക്ക് മാർക്ക് നൽകുക.

- a) ഇന്ത്യട്ടുകളുടെ താൽക്കാലിക വീടാണ് ഇട്ടു .
- b) അയഞ്ഞ വസ്ത്രങ്ങളാണ് ധരിക്കുക .
- c) മത്സ്യബന്ധനമാണ് ജീവതോപാധി .
- d) ചെറു സമൂഹമായി ജീവിക്കുന്നു .
- e) കസാവയാണ് ഇന്ത്യട്ടുകളുടെ ഭക്ഷണം .



ജില്ലയുടെ പേര്. **തൃശ്ശൂർ**
 ബി.ആർ.സി യുടെ പേര്. **മുല്ലശ്ശേരി**

സ്റ്റാൻഡേർഡ് : 6
 വിഷയം : സാമൂഹ്യ ശാസ്ത്രം
 യൂണിറ്റ് : 6
 പാഠം : വൈവിധ്യങ്ങളുടെ ലോകം
 വർക്ക്ഷീറ്റ് നമ്പർ : 09

തുടർച്ച 09

വൈറ്റ് ബോർഡ് ഷീറ്റ്

താഴെ കാണുന്ന ജന്തുക്കളും സസ്യങ്ങളും ഏത് കാലാവസ്ഥാ മേഖലയിലും, താപീയ മേഖലയിലും ആണ് ഉൾപ്പെടുന്നതെന്ന് കണ്ടെത്തുക .

ജീവികൾ	കാലാവസ്ഥാ മേഖല	താപീയ മേഖല
